

NOME:


COGNOME:

DATA DI NASCITA:



L'UNIVERSITA' degli STUDI di ROMA
TOR VERGATA

FACOLTÀ DI ECONOMIA



*CORSO DI LAUREA TRIENNALE
(I LIVELLO)*

PROVA DI INGRESSO
ANNO ACCADEMICO
2008 - 2009

V2

ATTENZIONE!

NON STRAPPARE L'INVOLUCRO DI PLASTICA

PRIMA CHE VENGA DATO IL SEGNALE DI INIZIO PROVA



ISTRUZIONI PER LO SVOLGIMENTO DELLA PROVA

La prova è costituita da domande di vario tipo e, per ogni domanda, verranno proposte cinque possibili risposte. Una sola di esse è corretta. Individuatela e segnatela sul foglio per le risposte che vi è stato consegnato insieme a questo fascicolo.

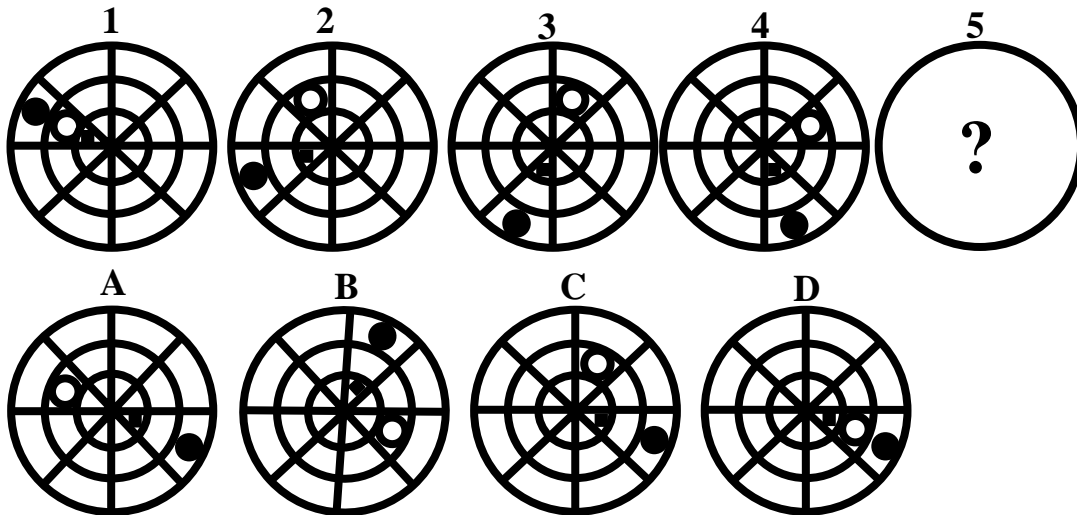
Segnate le vostre risposte annerendo (●) la casella corrispondente sul foglio per le risposte: fate attenzione a non segnare le risposte su questo fascicolo, ma utilizzate sempre il foglio per le risposte che vi è stato consegnato.

Sarà il foglio per le risposte, e non il fascicolo contenente la prova, ad essere corretto. Questo fascicolo, tuttavia, può essere utilizzato come “brutta copia” per segnare appunti qualora ve ne sia necessità.

Sul foglio per le risposte codificato, annerite (●) solamente la casella corrispondente alla risposta che volete dare. Non fate alcun altro segno.

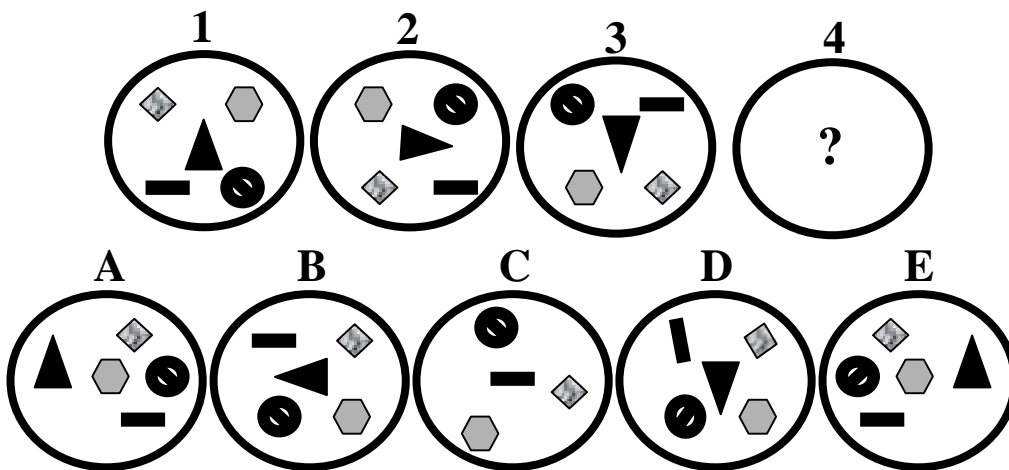
Annerite la casella corrispondente alla risposta che intendete dare nella colonna “RISPOSTA”. Nel caso voleste cambiare la risposta che avete dato annerite la casella con la nuova risposta nella colonna “CORREZIONE”, senza cancellare e/o scarabocchiare la risposta precedente.

1. Quale figura tra quelle indicate con le lettere A, B, C o D va a sostituire logicamente il punto interrogativo nella figura 5?



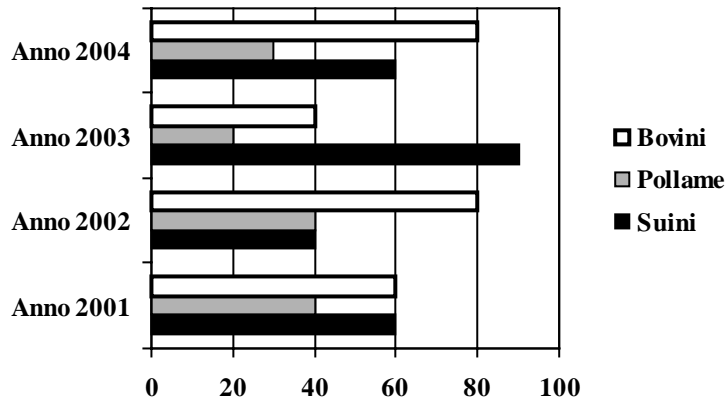
- A La figura indicata con la lettera B
- B La figura indicata con la lettera C
- C La figura indicata con la lettera A
- D La figura indicata con la lettera D
- E Nessuna figura può sostituire logicamente il punto interrogativo

2. Quale delle figure indicate con le lettere A, B, C, D o E completa logicamente la serie di figure?

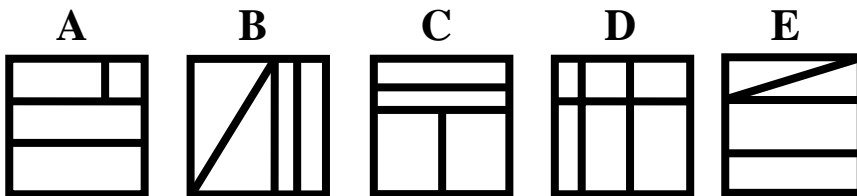


- A La figura indicata con la lettera E
- B La figura indicata con la lettera C
- C La figura indicata con la lettera D
- D La figura indicata con la lettera A
- E La figura indicata con la lettera B

3. Il seguente grafico mostra l'andamento delle vendite di capi di bestiame da allevamento di una certa azienda leader nel settore delle carni da macello. Le tipologie di bestiame di riferimento sono tre, i bovini, i suini ed il pollame. Il grafico mostra l'andamento delle vendite (in migliaia) per quattro anni di riferimento, il 2001, il 2002, il 2003 ed il 2004. Sulla base di queste informazioni e su quelle deducibili dal grafico quale affermazione tra quelle riportate sarà vera?



- A L'annata migliore per la vendita di bovini è stata quella del 2001
 B La vendita maggiore di suini c'è stata nel 2001
 C Nel 2004 si sono venduti la metà di capi di suini rispetto al 2003
 D La vendita di bovini nell'anno 2002 è stata il doppio rispetto a quella, sempre di bovini, dell'anno 2003
 E La vendita di pollame nel 2003 è stata più fruttuosa di quella del 2001
4. Tra le figure rappresentate se ne trova solo una estranea. Individuare quale:



- A La figura indicata con la lettera C
 B La figura indicata con la lettera A
 C La figura indicata con la lettera D
 D La figura indicata con la lettera B
 E La figura indicata con la lettera E
5. Completare la seguente serie di lettere considerando l'alfabeto italiano composto da 21 lettere:

B, D, F, H, ?, N

- A Completa la serie la lettera G
 B Completa la serie la lettera Z
 C Completa la serie la lettera L
 D Completa la serie la lettera M
 E Completa la serie la lettera I

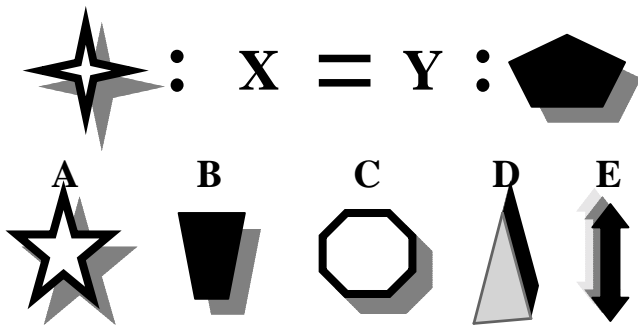
6. Quali numeri andranno a sostituire le incognite X ed Y affinché la somma dei numeri contenuti all'interno della figura, sia che si faccia per orizzontale, verticale e diagonale, dia sempre 33?

10	Y	8
9	X	13
14	7	12

- A X = 9; Y = 13
 B X = Y = 17
 C X = 15; Y = 11
 D X = 11; Y = 15
 E X = 10; Y = 9
7. Abbiamo quattro numeri X, Y, Q e Z. Sappiamo che Z è maggiore di X, Y è maggiore di X, Q è minore di X. Sulla base di queste informazioni quale sarà l'unica affermazione sicuramente vera?

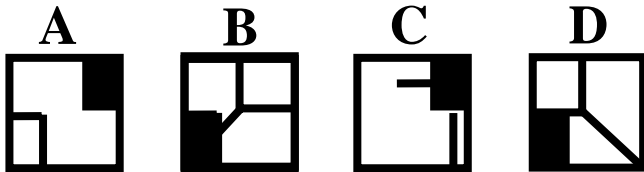
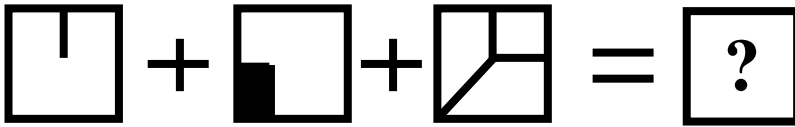
- A Y è maggiore di Q
 B Q è maggiore di Z
 C Q è maggiore di Y
 D Y è maggiore di Z
 E Z è maggiore di Y

8. Quali figure vanno inserite al posto delle incognite X ed Y per completare logicamente la seguente proporzione grafica?



- A X = C; Y = A
 B X = E; Y = D
 C X = B; Y = E
 D X = C; Y = E
 E X = A; Y = B

9. Dopo aver svolto le operazioni grafiche come indicato nella prima riga quale figura andrà a sostituire il punto interrogativo?



- A** La figura indicata con la lettera D
B Nessuna delle figure indicate è il risultato grafico delle operazioni indicate
C La figura indicata con la lettera B
D La figura indicata con la lettera C
E La figura indicata con la lettera A
10. Se 12 donne ogni 100 sono alte, quante donne su 300 non sono alte?
- A** 264
B 36
C 294
D 28
E 280
11. Quando è avvenuto l'attacco terroristico alle Torri Gemelle negli Stati Uniti d'America?
- A** 11 settembre 1999
B 11 settembre 2001
C 10 settembre 2002
D 11 settembre 2000
E 9 settembre 2003
12. Che cosa significa P.I.L.?
- A** Profitto Interno Lordo
B Produzione Industriale Liberista
C Prodotto Interno Lordo
D Potenziale Interno Lordo
E Prodotto Industriale Lordo
13. Quale tra i seguenti giornali di seguito elencati non è un quotidiano?
- A** Il Foglio
B Il Giornale
C Il Corriere della Sera
D L'Espresso
E La Repubblica

14. Tra gli Istituti Specializzati e le Organizzazioni Collegate all'Organizzazione delle Nazioni Unite la FAO è quella che si occupa prevalentemente di:
- A** Promuovere la cooperazione internazionale nel settore monetario
 - B** Incrementare la produzione alimentare
 - C** Assistere i profughi
 - D** Elaborare progetti in materia di lavoro
 - E** Assistere i bambini
15. Il G8 è un'organizzazione formata dai 7 Paesi più industrializzati del mondo più la Russia. Oltre ad essa quali sono gli altri 7 Paesi membri?
- A** USA - Giappone - Germania - Francia - Italia - Regno Unito - Spagna
 - B** USA - Giappone - Germania - Francia - Olanda - Danimarca - Canada
 - C** USA - Cina - Germania - Francia - Italia - Regno Unito - Canada
 - D** Cina - Giappone - Germania - Francia - Italia - Regno Unito - Canada
 - E** USA - Giappone - Germania - Francia - Italia - Regno Unito - Canada
16. Quale di queste opere teatrali non è stata scritta da Pirandello?
- A** La figlia di Iorio
 - B** Così è se vi pare
 - C** Sei personaggi in cerca d'autore
 - D** Uno, nessuno e centomila
 - E** I giganti della montagna
17. Da chi fu capeggiata la Rivoluzione Russa del 1917?
- A** Rasputin
 - B** Eltsin
 - C** Milhosevic
 - D** Lenin
 - E** Stalin
18. Indica quale di questi autori italiani ha vinto il Premio Nobel per la letteratura
- A** Italo Calvino
 - B** Eugenio Montale
 - C** Italo Svevo
 - D** Umberto Eco
 - E** Alberto Moravia
19. Quale tra i seguenti poeti appartiene alla corrente dell'ermetismo?
- A** G. Pascoli
 - B** P. Levi
 - C** G. Leopardi
 - D** E. Montale
 - E** G. D'Annunzio

20. L'opera "I dolori del giovane Werther" è stata scritta da:

- A** Friedrich Schiller
- B** Wolfgang Goethe
- C** Novalis
- D** Franz Kafka
- E** Ugo Foscolo

21. Quale corrente letteraria ha come massimo esponente G. Verga?

- A** Verismo
- B** Ermetismo
- C** Decadentismo
- D** Romanticismo
- E** Futurismo

22. Individuare la corretta sequenza temporale dei seguenti avvenimenti della seconda metà del XX secolo:

- 1- L'assassinio di Aldo Moro
- 2- La prima guerra del Golfo
- 3- La caduta del muro di Berlino
- 4- La strage di Piazza Fontana

- A** 3-2-1-4
- B** 4-2-1-3
- C** 1-3-2-4
- D** 4-1-3-2
- E** 2-1-4-3

23. Chi attaccò la flotta americana a Pearl Harbour?

- A** Francesi e Inglesi
- B** Giapponesi e Tedeschi
- C** Giapponesi
- D** Tedeschi
- E** Tedeschi e Italiani

24. Quale rivoluzione segnò la fine dell'impero degli Zar e la nascita dell'Unione Sovietica?

- A** La rivoluzione francese
- B** La rivoluzione d'Ottobre
- C** I moti del 1848
- D** La rivoluzione di Vienna
- E** La rivoluzione industriale

25. Il congresso di Vienna si svolse a chiusura di una importante fase storica:

- A** Seconda guerra mondiale
- B** Era Napoleonica
- C** Monarchia Assoluta
- D** Prima guerra mondiale
- E** Repubblica Federale

26. Il Parlamento in Italia è composto:
- A** Dal Presidente del Consiglio dei Ministri e tutti i Ministri
 - B** Da tutti i consiglieri regionali
 - C** Solo dai Ministri con portafoglio
 - D** Dai soli onorevoli eletti alla Camera
 - E** Da Camera e Senato
27. Nell'ordinamento giuridico italiano:
- A** Vigé il principio di disegualianza tra uomo e donna
 - B** Vigé il principio di parità di trattamento tra uomo e donna
 - C** Vigono norme solo a tutela delle donne
 - D** Non vigé alcun principio di parità di trattamento tra uomo e donna
 - E** Non vigé alcun principio relativo a uomo e donna
28. Le sanzioni nell'ordinamento giuridico italiano:
- A** Possono implicare afflizioni corporali
 - B** Possono essere sia premianti che punitive
 - C** Possono essere solo punitive
 - D** Non possono implicare la detenzione carceraria
 - E** Possono essere solo premianti
29. Il Presidente della Repubblica in Italia:
- A** E' nominato congiuntamente dai Presidenti di Camera e Senato
 - B** E' eletto dal Parlamento in seduta comune dei suoi membri
 - C** E' eletto dai Senatori
 - D** E' eletto dai cittadini direttamente
 - E** E' eletto dai magistrati a scrutinio segreto
30. L'Italia, ai sensi dell'art. 1 della Costituzione, è:
- A** Una Repubblica democratica, fondata sul lavoro
 - B** Una Repubblica oligarchica
 - C** Una Repubblica presidenziale
 - D** Uno Stato dittatoriale
 - E** Una Monarchia parlamentare
31. Il teorema di Pitagora permette di calcolare:
- A** Gli angoli acuti di un triangolo rettangolo conoscendo l'ipotenusa
 - B** Il perimetro di un triangolo rettangolo conoscendo l'ipotenusa
 - C** L'ipotenusa di un triangolo rettangolo conoscendo i due cateti
 - D** L'area racchiusa da una circonferenza nota la sua lunghezza
 - E** La lunghezza di una circonferenza dato il raggio
32. Siano a, b, c tre numeri positivi tali che $a > c$ e $b > c$. Allora vale sempre:
- A** $a \times b > c$
 - B** $a : b > c$
 - C** $a \times c > b$
 - D** $a \times b > c \times c$
 - E** $b \times c > a$

33. L'espressione $[(a \times b \times c) + c]:c$ è pari a:

- A** $a \times b + 1$
- B** $a \times b:c + 1$
- C** $a \times b$
- D** $a \times b + c$
- E** $a \times b \times c:c + c$

34. Il numero $1+2+3 \times 3+4 \times 4 \times 4$ è:

- A** Dispari
- B** Più piccolo di 75
- C** Divisibile per 3 con resto nullo
- D** Divisibile per 4 con resto nullo
- E** Divisibile per 4 con resto uno

35. Un cubo ha lato lungo 2 metri, un altro cubo ha lato lungo 4 metri. Pertanto il secondo cubo ha volume:

- A** 2 volte quello del primo cubo
- B** 3 volte quello del primo cubo
- C** 4 volte quello del primo cubo
- D** 6 volte quello del primo cubo
- E** 8 volte quello del primo cubo

36. Un assegno bancario è:

- A** Un titolo di credito che consente al soggetto emittente di usufruire della raccolta del risparmio presso il pubblico
- B** E' un documento fiscale che comprova l'avvenuta cessione di beni o prestazione di servizi ed il diritto a riscuoterne il prezzo
- C** Uno strumento di pagamento elettronico consistente in un ordine impartito telematicamente alla propria banca di pagare a terzi una somma indicata
- D** Un documento di trasporto a vista mediante il quale un soggetto attesta l'avvenuto trasferimento del bene scambiato al compratore
- E** Un titolo di credito consistente in un ordine scritto impartito alla propria banca di pagare a terzi o a se stessi una somma indicata

37. Quale dei seguenti Ministeri, tra l'altro, coordina l'attività dello Stato in materia di demanio?

- A** Nessuna delle altre risposte proposte è vera
- B** Ministero dell'Interno
- C** Ministero del Lavoro, della Salute e delle Politiche Sociali
- D** Ministero dell'Economia e delle Finanze
- E** Ministero delle Infrastrutture e dei trasporti

38. Cos'è il prodotto nazionale lordo?

- A** I beni e servizi finali prodotti da una nazione considerati prima dell'imposizione fiscale
- B** Le entrate derivanti dall'utilizzazione dei soli servizi pubblici
- C** Le entrate derivanti dalla vendita di beni pubblici
- D** Il flusso di beni e servizi finali prodotti da una nazione nell'arco di tempo
- E** Il valore di beni e servizi prodotti dagli enti pubblici in un anno

39. Che cosa esprime il tasso di cambio?

- A Nessuna delle altre risposte proposte è vera
- B La tassa che viene pagata sulle importazioni
- C La ragione percentuale di interesse applicata dalle banche per i finanziamenti in valuta
- D Il prezzo al quale vengono contrattate le valute dei vari paesi stranieri
- E Il rapporto tra la quantità di moneta in circolazione e la quantità di oro posseduta in riserva da ciascun paese

40. La Parmalat è un gruppo aziendale del settore agroalimentare italiano, che negli ultimi 10 anni, ha registrato:

- A Un crack finanziario, che ha portato il gruppo al fallimento ed alla cessazione dell'attività
- B Risultati economici altalenanti, senza però incorrere in provvedimenti
- C Almeno una dichiarazione di "stato di insolvenza" da parte del tribunale fallimentare, generata dalla bancarotta fraudolenta di una parte della proprietà e del management
- D Risultati economici negativi che hanno portato al delisting dalla Borsa Valori di Milano
- E Risultati economici di primo ordine rispetto agli altri operatori del settore

41. Il prezzo è determinato fondamentalmente dall'interazione dell'offerta e della domanda. Tralasciando gli ulteriori fattori che agiscono sul mercato possiamo, in genere affermare che, se l'offerta aumenta...

- A Il prezzo resta sempre invariato
- B Il prezzo comincerà istantaneamente a salire
- C Il prezzo tende a scendere
- D Nessuna delle altre risposte proposte è vera
- E Non si può determinare cosa succederà al prezzo

42. La Borsa Valori è un mercato finanziario:

- A *Dematerializzato*, poiché è privo di una qualsiasi localizzazione fisica della borsa valori
- B *Secondario*, dove vengono scambiati strumenti finanziari (ovvero valori mobiliari e valute estere) che sono già stati emessi e che sono quindi già in circolazione
- C *Non ufficiale (o non regolamentato)* poiché la negoziazione avviene al di fuori dei circuiti borsistici ufficiali
- D Aperto ai soli investitori istituzionali, in quanto in grado di effettuare considerevoli investimenti in maniera sistematica e cumulativa
- E *Immobiliare*, dove vengono scambiati beni immobili

43. Il gruppo aziendale Lufthansa, dopo la completa privatizzazione avvenuta nel 1997, rappresenta ancora oggi:

- A La compagnia aerea di bandiera della Germania, in cui lo stato tedesco possiede l'intero capitale azionario
- B La compagnia aerea di bandiera francese
- C La compagnia aerea *low-cost* di matrice tedesca
- D La principale compagnia aerea tedesca quotata sul mercato mobiliare tedesco
- E La compagnia aerea di bandiera italiana, in seguito all'acquisizione di Alitalia

44. Il *benchmarking* è:

- A Un criterio di scelta utilizzato dalla funzione di ricerca e sviluppo per selezionare l'alternativa migliore tra diversi progetti di ricerca
- B Il meccanismo di fissazione del prezzo dei prodotti da collocare sul mercato di riferimento
- C Uno strumento di scelta tra i finanziatori che offrono le condizioni migliori
- D Il processo di introduzione di nuovi strumenti gestionali di *marketing*
- E Il metodo attraverso cui ogni organizzazione può migliorare la propria strategia attraverso un confronto con le aziende migliori (*best in class*)

45. Oligopolio e monopolio...
- A** Favoriscono la concorrenza
 - B** Penalizzano la concorrenza
 - C** Penalizzano i produttori
 - D** Aiutano l'ingresso di nuove imprese
 - E** Favoriscono il consumatore
46. A partire da quale età si può essere eletti in Italia deputati?
- A** 40 anni di età
 - B** Nessuna delle altre risposte proposte è vera
 - C** 25 anni di età
 - D** 21 anni di età
 - E** 18 anni di età
47. Da chi sono temporaneamente assunte le funzioni del Presidente della Repubblica in caso di suo impedimento o assenza?
- A** Dal Ministro dell'Interno
 - B** Dal Presidente della Camera dei Deputati
 - C** Dal Presidente del Senato
 - D** Dal presidente del Consiglio dei Ministri
 - E** Alternativamente dai Presidenti delle Camere
48. Se l'impresa individuale del signor Verdi, che produce scarpe artigianali, produce e vende 100 paia di scarpe, ad un prezzo di vendita unitario di 250 euro, sostenendo un costo complessivo di 20.000 euro, ottiene il seguente risultato:
- A** Il pareggio di bilancio
 - B** Un investimento di capitale complessivo di 25.000 euro
 - C** Un utile di 250 euro per ogni paio di scarpe venduto
 - D** Un utile di 5.000 euro
 - E** Una perdita di 5.000 euro
49. Le quote del capitale sociale di una società per azioni sono detenute:
- A** Dai creditori, a garanzia della restituzione delle risorse monetarie prestate
 - B** Dai possessori dei titoli azionari emessi dalla società stessa
 - C** Dagli azionisti di maggioranza, dagli azionisti di minoranza e dagli obbligazionisti
 - D** Da tutti gli *stakeholders* (portatori di interesse) che a vario titolo sono interessati all'attività della società
 - E** Dal management dell'impresa, che è espressione della proprietà
50. La sigla CONSOB significa:
- A** Consiglio Nazionale di vigilanza sulle Operazioni Bancarie
 - B** Commissione di Studio per le Scienze Biologiche
 - C** Commissione per il Controllo delle Società e delle Borse
 - D** Commissione per il Controllo dei Sistemi Biotecnologici
 - E** Nessuna delle altre risposte proposte è vera